

Gemischte Zahlen

Zahlen heißen gemischte Zahlen, wenn sie aus Ganzen und Brüchen bestehen.

1. Aufgabe: Zeichne folgende gemischte Zahlen:

a) $2\frac{3}{8}$


b) $4\frac{5}{8}$

c) $3\frac{3}{4}$



d) $2\frac{1}{4}$

2. Aufgabe: Welche Zahlen sind hier abgebildet?

a)



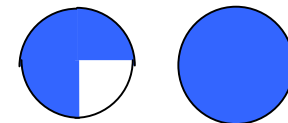
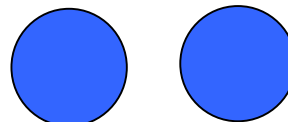
b)



c)



d)



e)



f)

