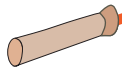


Zahlenstrahl 1

Der „Lichtstrahl“ fängt bei der Taschenlampe an und geht immer weiter



0

1

2

3

4

5

6

7

8

9

10

11

12

13

14

15

16

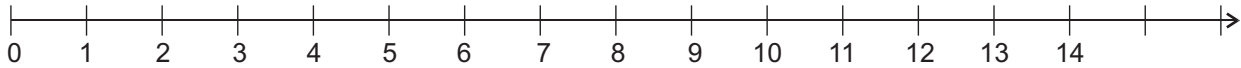
17

18

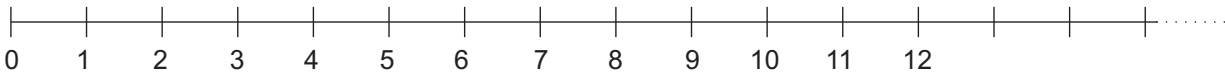
19

Der Pfeil bedeutet: „Es hört nie auf!“

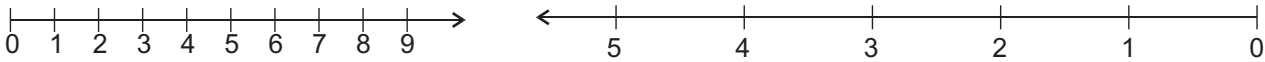
Auch der „Zahlenstrahl“ geht immer weiter



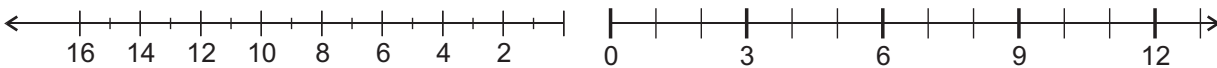
Manchmal „versickert“ der Zahlenstrahl auch als Pünktchen.



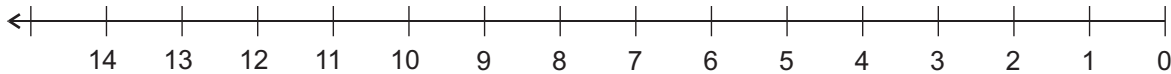
Die Zahlen können eng oder weit auseinander stehen.



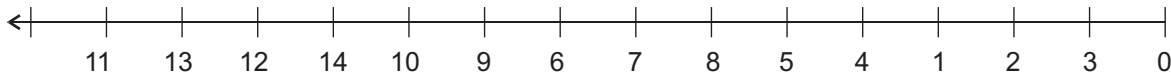
Man muss nicht jede Zahl hinschreiben.



Ein Zahlenstrahl kann nach oben oder nach unten oder nach links laufen!



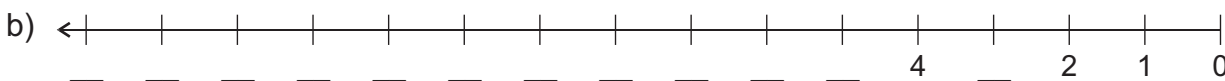
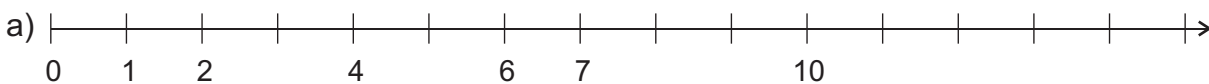
1) Bei einem Zahlenstrahl sind die Zahlen der Größe nach geordnet. Was ist bei dem folgenden Zahlenstrahl falsch?



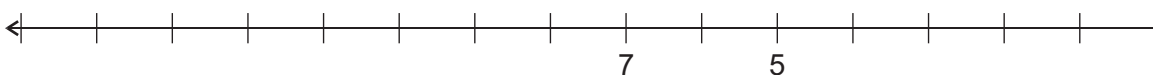
2) Der Abstand von einer Zahl zur folgenden Zahl ist immer genau gleich! Sonst ist es kein Zahlenstrahl! Was ist bei dem folgenden Zahlenstrahl falsch?



3) Ergänze die fehlenden Zahlen.



4) Vervollständige den Zahlenstrahl:



5) Vervollständige:

