

Mathematikarbeit Nr. 1

Name: _____

Datum: _____

Klasse: _____

1. $26 + 52 = \underline{\quad}$ $12 + \underline{\quad} = \underline{45}$ $45 - 34 = \underline{\quad}$ $84 - \underline{\quad} = \underline{48}$
 $74 + 12 = \underline{\quad}$ $\underline{\quad} + 65 = \underline{78}$ $82 - 57 = \underline{\quad}$ $\underline{\quad} - 78 = \underline{5}$
 $17 + 91 = \underline{\quad}$ $62 + \underline{\quad} = \underline{87}$ $29 - 18 = \underline{\quad}$ $46 - \underline{\quad} = \underline{1}$ 12P

2. Trage immer das Doppelte ein.

Zahl	5	18	2	27	40	33	56	22	3	48
Das Doppelte	10									

6P

3. Trage immer die Hälfte ein.

Die Hälfte	5									
Zahl	10	18	24	44	60	10	48	26	4	98

6P

4. Löse die Multiplikations- und Divisionsaufgaben.

$$\begin{array}{l} 3 \cdot 5 = \underline{\quad} \\ 8 \cdot 7 = \underline{\quad} \\ 6 \cdot 2 = \underline{\quad} \\ 9 \cdot 4 = \underline{\quad} \\ 8 \cdot 8 = \underline{\quad} \\ 4 \cdot 1 = \underline{\quad} \end{array} \quad \begin{array}{l} 20 : 10 = \underline{\quad} \\ 20 : 9 = \underline{\quad} \\ 20 : 8 = \underline{\quad} \\ 20 : 7 = \underline{\quad} \\ 20 : 6 = \underline{\quad} \\ 20 : 5 = \underline{\quad} \end{array}$$

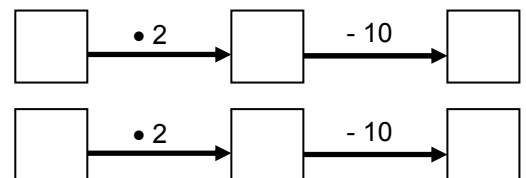
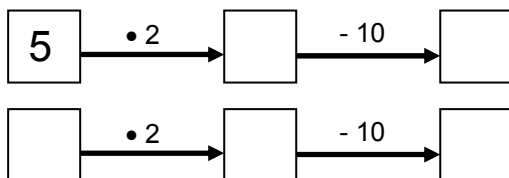
Finde Malaufgaben.

$$\begin{array}{l} \underline{\quad} \cdot \underline{\quad} = \underline{12} \\ \underline{\quad} \cdot \underline{\quad} = \underline{54} \\ \underline{\quad} \cdot \underline{\quad} = \underline{72} \\ \underline{\quad} \cdot \underline{\quad} = \underline{24} \\ \underline{\quad} \cdot \underline{\quad} = \underline{18} \\ \underline{\quad} \cdot \underline{\quad} = \underline{56} \end{array}$$

12P

6P


5. Berechne die Start-Ziel-Aufgabe. Starte auch mit 6, 7 und 8.



8P

6. Notiere die Aufgabe auf den Kästchen. Rechne aus.

Ich denke mir eine Zahl, verdopple sie, subtrahiere 21 und erhalte 23.



4P

Mathematikarbeit Nr. 1

Name: _____ Datum: _____ Klasse: _____

7. Löse die Malkreuze.

.	4	5	
6			
2			

.	9	1	
3			
3			

6P

8. Schreibe die Frage, eine Rechnung und die Antwort auf.

Erdinc und Zora gehen in den Zoo. Bei den 5 großen Elefanten bleiben sie stehen. Der Wärter sagt: „Wir haben 18 Pinguine mehr als Elefanten!“

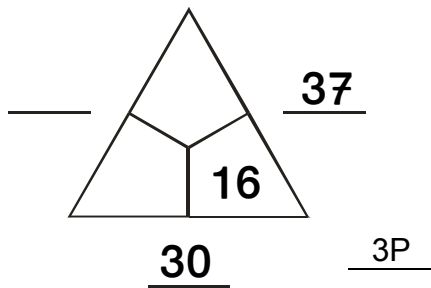
Frage: _____

Rechnung: _____


Antwort: _____

6P

9.



3P



6P


69P

Von 69 Punkten hast du ____ Punkte erreicht.

Datum, Unterschrift

Note:

Note in Worten



Unterschrift eines Erziehungsberechtigten