

Lernkontrolle Nr. 2

Name: _____ Klasse: _____ Datum: _____

1. Schreibe die Nachbarzahlen dazu.

_____ , 83, _____ _____ , 64, _____ _____ , 8, _____
 _____ , 29, _____ _____ , 50, _____ _____ , 99, _____
 _____ , 79, _____ _____ , 10, _____ _____ , 102, _____

2. Schreibe die fehlenden Zahlen nur in die Kreise. Dann trage diese Zahlen ein: 2, 97, 42, 37, 69

			4		○	7	○		
○				15				19	20
	○		24		26				
				35					○
41				○		47		49	
		53		55			58		60
61				65		67			
○			74						80
81				85			○		
	○		94		○				100

3. Setze richtig ein: >, =, <

78 14 99 98 24 42 79 79
 15 23 78 54 78 73 103 64

4. Zum Zehner vor und zurück.

27 + _____ = 30 71 + _____ = _____ 38 - _____ = 30 82 - _____ = _____
 1 + _____ = 10 45 + _____ = _____ 47 - _____ = 40 53 - _____ = _____
 82 + _____ = 90 94 + _____ = _____ 91 - _____ = 90 75 - _____ = _____

Name: _____


Klasse: _____

Datum: _____

5. Setze die Reihen richtig fort.


1, 3, 5, ____, ____, ____, ____, ____

14, 20, 26, ____, ____, ____, ____, ____

 2, 100, 4, 98, 6, ____, ____, ____, ____, ____, 12

20, 18, 16, ____, ____, ____, ____, ____

86, 82, 78, ____, ____, ____, ____, ____

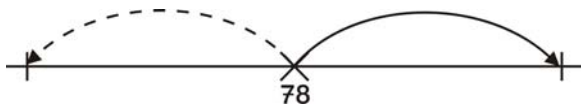
 91, 84, 77, ____, ____, ____, ____, ____

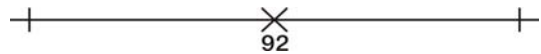
6. Ordne die Zahlen am Rechenstrich:

99 17 47 78 2 91



7. Rechne am Rechenstrich immer 10 mehr und 10 weniger. Schreibe beide Aufgaben auf!





8. Starte mit der Zahl 47.

a) Zwei Sechсersschritte vor.



b) Drei Viererschritte vor.



c) Vier Dreierschritte vor.



d) Was fällt dir auf? _____

Du hast ____ Punkte erreicht!

Unterschrift