

Mathematikarbeit Nr. 2

Name: _____ Datum: _____ Klasse: _____

1. Wie viel Euro?

| | | |
|------------------------------------------------------------------------------------|-------------------------------------------------------------------------------------|-------|
|  |  | _____ |
| | | |
|  |  | _____ |
| | | |
|  |  | _____ |

3P

2. Lege mit möglichst wenigen Scheinen und Münzen!

- 345 € = _____ + _____ + _____
- 303 € = _____
- 799 € = _____
- 999 € = _____
- 777 € = _____

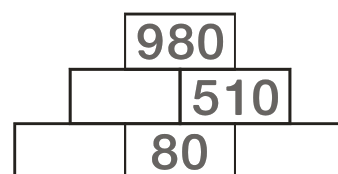
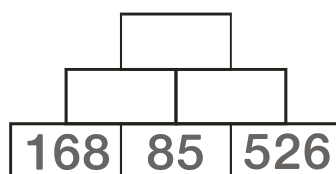
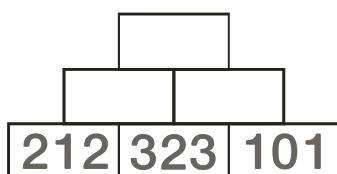
5P

3. Schöne Päckchen. Rechne aus und setze fort.

- | | | | |
|---------------------|---------------------|---------------------|---------------------|
| 226 + 700 = _____ | 156 + 404 = _____ | 725 - 100 = _____ | 668 - 128 = _____ |
| 246 + 600 = _____ | 155 + 505 = _____ | 735 - 200 = _____ | 678 - 138 = _____ |
| 266 + 500 = _____ | 154 + 606 = _____ | 745 - 300 = _____ | 688 - 148 = _____ |
| 286 + 400 = _____ | 153 + 707 = _____ | 755 - 400 = _____ | 698 - 158 = _____ |
| ____ + ____ = _____ | ____ + ____ = _____ | ____ - ____ = _____ | ____ - ____ = _____ |
| ____ + ____ = _____ | ____ + ____ = _____ | ____ - ____ = _____ | ____ - ____ = _____ |

32P

4. Löse die Zahlenmauern.



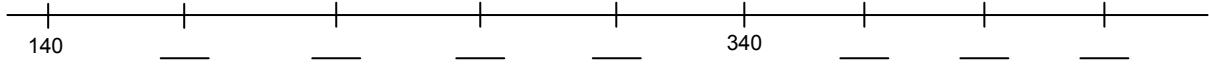
9P

49P

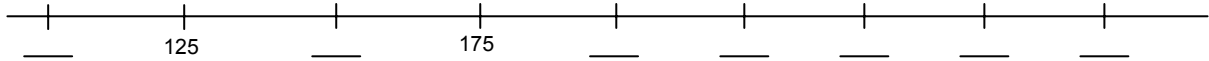
Mathematikarbeit Nr. 2

Name: _____ Datum: _____ Klasse: _____

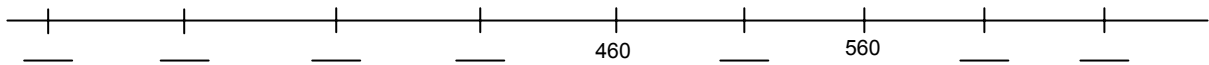
5. Immer plus 40.



Immer plus 25.



Immer plus ____.



11P

6. Berechne ungefähr und den Überschlag.

$406 + 268 \approx \underline{\quad}$ $249 + 512 \approx \underline{\quad}$ $816 - 79 \approx \underline{\quad}$ $655 - 121 \approx \underline{\quad}$
Ü: $\underline{\quad} + \underline{\quad} = \underline{\quad}$ Ü: $\underline{\quad} + \underline{\quad} = \underline{\quad}$ Ü: $\underline{\quad} - \underline{\quad} = \underline{\quad}$ Ü: $\underline{\quad} - \underline{\quad} = \underline{\quad}$

8P

7a. Toni hat auf seinem Sparsbuch 350 €. Ayse sagt: „Ich habe 170 € weniger als du.“

Frage: _____

Rechnung: _____

Antwort: _____

6P

7b. Ayse möchte gern 1000 € sparen. Wie viel Geld fehlt ihr noch? Ihr fehlen _____ €.


2P

Von 76 Punkten hast du _____ Punkte erreicht.

Datum, Unterschrift

Note:

Note in Worten



Unterschrift eines Erziehungsberechtigten