



Ich rechne ganz cool, dann mache ich keine Fehler!

Mathematikarbeit Nr. 3

Name: _____ Datum: _____ Klasse: _____

1. Fülle die Lücken aus.

1 km = _____ m	346 cm = _____ m	5km 980m = _____ km = _____ m
1 m = _____ dm	1420 cm = _____ m	___ km ___ m = 0,371 km = _____ m
1 m = _____ cm	57 cm = _____ m	___ km ___ m = _____ km = 92 m

12P

2a. Schreibe eine Frage und eine Antwort auf die Linien. Rechne in den Kästchen.

In der Schule ist ein Sportfest. Leutrim hüpf 300m auf einem Bein. Er möchte gerne 350m hüpfen.

Frage: _____

3	0	0	m	+						m	=	3	5	0	m				

Antwort: _____

3P

2b. Leonie rennt 250m rückwärts und läuft deswegen aus Versehen zu weit. Bei 200m war eigentlich das Ziel.

Frage: _____

Antwort: _____

3P

2c. Jael möchte 800m rennen. Nach 400m hat sie Seitenstechen.

Frage: _____

Antwort: _____

3P

21P



Ich glaube, ich habe eine Erleuchtung!

Mathematikarbeit Nr. 3

Name: _____ Datum: _____ Klasse: _____

2d. Ricky möchte 100m weit hüpfen. Nach 65m hat er keine Lust mehr.

Frage: _____

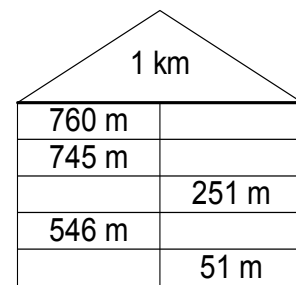
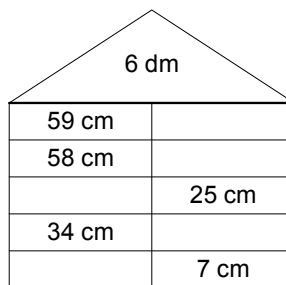
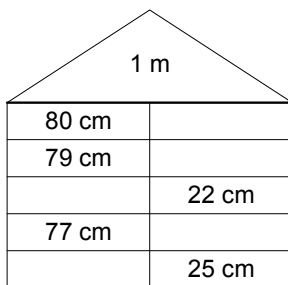
Antwort: _____

3P

3. $187 + 465 =$ _____ $800 + 198 =$ _____ $197 - 98 =$ _____ $943 - 184 =$ _____
 $384 + 208 =$ _____ $352 + 509 =$ _____ $735 - 198 =$ _____ $678 - 483 =$ _____
 $189 + 809 =$ _____ $428 + 438 =$ _____ $809 - 709 =$ _____ $860 - 656 =$ _____
 $358 + 528 =$ _____ $49 + 862 =$ _____ $666 - 116 =$ _____ $698 - 658 =$ _____

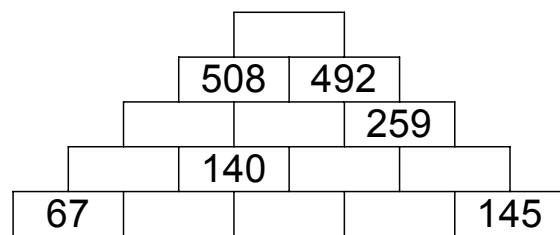
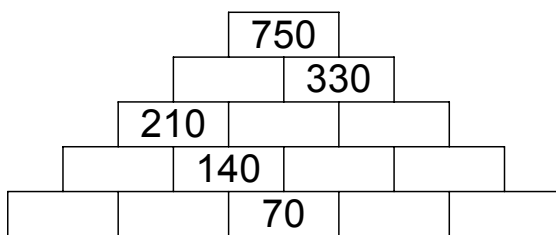
4. Ergänze richtig. Achte auf das Dach!

16P



15P

5. Rechne aus.



19P


Von 74 Punkten hast du _____ Punkte erreicht.

74P

Datum, Unterschrift

Note:

Note in Worten



Unterschrift eines Erziehungsberechtigten