

Übung für die Mathearbeit

Name: _____ Klasse: _____ Datum: _____

1. Schreibe die Nachbarzahlen dazu.

____, 14, ____ ____ , 22, ____ _____ , 30, _____
 _____ , 45, _____ _____ , 90, _____ _____ , 100, _____

2. Schreibe die fehlenden Zahlen nur in die Kreise. Dann trage diese Zahlen ein: 5, 77, 11, 51, 92

1			4		6		8		10
		○				17			
			○		26				30
○	32			35				39	
41					46		○		50
			54			○			
	62			○					○
71	○		74					79	
	82					87			90
91			94		○		98	○	

3. Setze richtig ein: >, =, <

22 □ 13 100 □ 2 12 □ 12 89 □ 88
 15 □ 78 78 □ 78 90 □ 89 12 □ 6

4. Zum Zehner vor und zurück.

89 + ____ = 90 3 + ____ = ____ 21 - ____ = 20 56 - ____ = ____
 18 + ____ = 20 54 + ____ = ____ 82 - ____ = 80 38 - ____ = ____
 5 + ____ = 10 98 + ____ = ____ 43 - ____ = 40 34 - ____ = ____

Name: _____

Klasse: _____

Datum: _____

5. Setze die Reihen richtig fort.

2, 4, 6, ____, ____, ____, ____, ____

3, 6, 9, ____, ____, ____, ____, ____

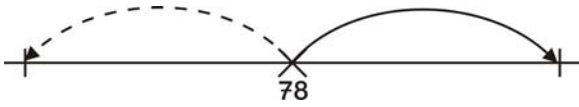
1, 100, 2, 99, 3, ____, ____, ____, ____, ____, 6

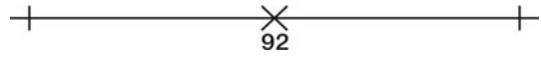
19, 17, 15, ____, ____, ____, ____, ____

62, 60, 58, ____, ____, ____, ____, ____

41, 36, 31, ____, ____, ____, ____, ____


7. Rechne am Rechenstrich immer 3 mehr und 3 weniger. Schreibe beide Aufgaben auf!





8. Starte mit der Zahl 47.

a) Drei Dreierschritte vor.



b) Ein Neunerschritt vor.



c) Was fällt dir auf? _____