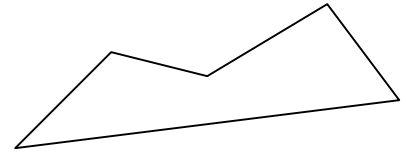
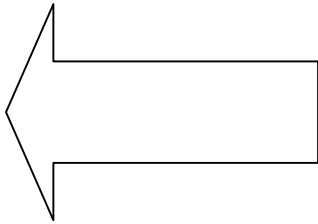


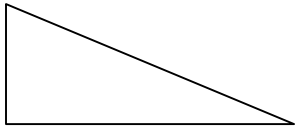


Übungsblatt für die Mathematikarbeit Geometrie

1. Kennzeichne in diesen Figuren alle rechten Winkel!



2. Zeichne parallele Strecken. Sie sollen jeweils drei Zentimeter lang sein.

3. Zeichne drei Senkrechte zu der vorhandenen Geraden. Sie sollen jeweils zwei Zentimeter von einander entfernt sein.



4. Zeichne drei Kreise, die alle den selben Mittelpunkt haben sollen. Der erste Kreis hat einen **Durchmesser** von 4 cm, der zweite Kreis hat einen **Radius** von 2,5 cm und der letzte Kreis hat einen **Durchmesser** von 60 mm.